

Олимпиадные задания школьного тура по географии для учащихся
5-6 класса

Время выполнения работы 60 минут.

Предмет География

Дата проведения 07.10.24.

Класс 5

Код участника 5002

Задание 1. Каких из перечисленных деревьев в природе не существует (зачеркни)? Дай развернутый ответ о тех деревьях, которые существуют.

Колбасное, молочное, мыльное, свечечное, бутылочное. все существуют. 15

Задание 2. В приведенном списке слов названы объекты и явления природы.

Выпиши из этих слов такие, которые составляют группы. Каждую группу назови.

Чернозем, устье, смерч, остров, волк, краснозем, суховей, русло, снег, подзол, буран, излучина, исток, бриз, вулкан, коала, тайфуны.

- 1) чернозем, краснозем, подзол - почвы.
- 2) устье, русло, излучина, исток - части реки.
- 3) тайфун, смерч, суховей, буран, бриз - ветры.

50

Задание 3. Почему массовые посещения современными людьми парков и пригородных лесов плохо влияют на состояние деревьев?

Ответ При посещении людьми парков и пригородных лесов оказываются сломаанными ветки, молодые деревца. Возможно использование деревьев на дрова. Уничтожение почвы и разведение костров много влияет на корневую систему. Некачественные условия изготовления приводит к уменьшению числа птиц, увеличению количества вредителей. 50

Задание 4. Группа туристов ушла из лагеря в северо-восточном направлении. Компас потеряли. Напиши как можно больше вариантов, по каким ориентирам можно определить направление, в котором надо вернуться в лагерь.

Ответ При посещении людьми парков и пригородных л —

Задание 5. Расстояние между пунктами на изображении МА


сштаба 1:100 составляет 5 см, каково расстояние между этими пунктами на местности и в километрах? Это карта или план?

Ответ 0,005 км. 15


Задание 6. Перечислите названия материков и океанов:

Материки Евразия, Северная Америка, Южная Америка, Африка, Австралия, Антарктида.

Океа

Председатель жюри  М.Б.Безирова

Члены жюри  Р.Б.Темирканова

 Е.А.Хасанова

 Р.Х.Шереужев

Олимпиадные задания школьного тура по географии для учащихся
5-6 класса

Время выполнения работы 60 минут.

Предмет география

Дата проведения 07.10.24

Класс 5

Код участника 5001

Задание 1. Каких из перечисленных деревьев в природе не существует (зачеркни)? Дай развернутый ответ о тех деревьях, которые существуют.

Колбасное, молочное, мыльное, свечечное, бутылочное. Все существуют + 15

Задание 2. В приведенном списке слов названы объекты и явления природы.

Выпиши из этих слов такие, которые составляют группы. Каждую группу назови.

Чернозем, устье, смерч, остров, волк, краснозем, суховей, русло, снег, подзол, буран, излучина, исток, бриз, вулкан, коала, тайфуны.

Чернозем, краснозем, подзол - почва
Устье, русло, исток - части реки
Тайфуны, смерч, суховей, буран, бриз - ветры

+ 50

Задание 3. Почему массовые посещения современными людьми парков и пригородных лесов плохо влияют на состояние деревьев?

Ответ При посещениях люди паркуют и пригородных лесов скалываются
слабые ветки, молодые деревца. Возможно использование деревьев на дрова.
Утаптывание почвы и разведение костров плохо влияет на корневую систему.
Неблагоприятные условия проживания приводят к уменьшению числа птиц, увеличению
количества вредителей.

50

Задание 4. Группа туристов ушла из лагеря в северо-восточном направлении. Компас потеряли. Напиши как можно больше вариантов, по каким ориентирам можно определить направление, в котором надо вернуться в лагерь.

Ответ В течение светового дня - по тени.

15

Задание 5. Расстояние между пунктами на изображении масштаба 1:100 составляет 5 см, каково расстояние между этими пунктами на местности и в километрах? Это карта или план?


сштаба 1:100 составляет 5 см, каково расстояние между этими пунктами на местности и в километрах? Это карта или план?


Ответ 0,005

15

Задание 6. Перечислите названия материков и океанов:

Материки Европа, Северная Америка, Южная Америка, Африка, Австралия, Антарктида.

Председатель жюри  М.Б.Безирова

Члены жюри  Р.Б.Темирканова

 Е.А.Хасанова

 Р.Х.Шереужев

Олимпиадные задания школьного тура по географии для учащихся
5-6 класса

Время выполнения работы 60 минут.

Предмет география

Дата проведения 07.10.24

Класс 6

Код участника 6001

Задание 1. Каких из перечисленных деревьев в природе не существует (зачеркни)? Дай развернутый ответ о тех деревьях, которые существуют.

Колбасное, молочное, мыльное, свечечное, бутылочное. - Все существуют 15

Задание 2. В приведенном списке слов названы объекты и явления природы.

Выпиши из этих слов такие, которые составляют группы. Каждую группу назови.

Чернозем, устье, смерч, остров, волк, краснозем, суховей, русло, снег, подзол, буран, излучина, исток, бриз, вулкан, коала, тайфуны.

Чернозем, краснозем, подзол. - почва 5
Устье, русло, исток - части реки
Тайфун, смерч, суховей, буран, бриз - ветры

Задание 3. Почему массовые посещения современными людьми парков и пригородных лесов плохо влияют на состояние деревьев?

Ответ Три посещения людьми парков и пригородных лесов оказываются слабкими ветки, молодые деревья. Возможно использование деревьев на дрова. Утаптывание почвы и разведение костров плохо влияют на корневую систему. Некачественные условия проживания приводит к уменьшению числа птиц, увеличению количества вредителей. 50

Задание 4. Группа туристов ушла из лагеря в северо-восточном направлении. Компас потеряли. Напиши как можно больше вариантов, по каким ориентирам можно определить направление, в котором надо вернуться в лагерь.

Ответ В тени светового дня - по Солнцу. 1

Задание 5. Расстояние между пунктами на изображении МА

сштаба 1:100 составляет 5 см, каково расстояние между этими пунктами на местности и в километрах? Это карта или план?

Ответ 0,005 1

Задание 6. Перечислите названия материков и океанов:

Материки Европа, Северная Америка, Южная Америка, Африка, Австралия, Антарктида 5

Председатель жюри МББ М.Б.Безирова

Члены жюри РБТ Р.Б.Темирканова

ЕАХ Е.А.Хасанова

РХШ Р.Х.Шереужев

Олимпиадные задания школьного тура по географии для учащихся
5-6 класса

Время выполнения работы 60 минут.

Предмет география

Дата проведения 07.10.24

Класс 6

Код участника 6002

Задание 1. Каких из перечисленных деревьев в природе не существует (зачеркни)? Дай развернутый ответ о тех деревьях, которые существуют.

Колбасное, молочное, мыльное, свечечное, бутылочное. - все существуют + 1

Задание 2. В приведенном списке слов названы объекты и явления природы.

Выбери из этих слов такие, которые составляют группы. Каждую группу назови.

Чернозем, устье, смерч, остров, волк, краснозем, суховей, русло, снег, подзол, буран, излучина, исток, бриз, вулкан, коала, тайфуны.

- 1) чернозем, краснозем, подзол - почва
- 2) устье, русло, излучина, исток, впадина реки
- 3) тайфуны, смерч, суховей, буран, бриз - ветры

58

Задание 3. Почему массовые посещения современными людьми парков и пригородных лесов плохо влияют на состояние деревьев?

Ответ При посещениях парков и пригородных лесов оказываются повреждены ветви молодых деревьев, возможно использование деревьев на дрова, уничтожение грибов и лишайников, которые являются вредителями. Некачественные условия среды обитания приводят к уменьшению числа птиц, увеличению количества вредителей.

58

Задание 4. Группа туристов ушла из лагеря в северо-восточном направлении. Компас потеряли. Напиши как можно больше вариантов, по каким ориентирам можно определить направление, в котором надо вернуться в лагерь.

Ответ При посещениях парков и пригородных лесов.

1

Задание 5. Расстояние между пунктами на изображении МА


сштаба 1:100 составляет 5 см, каково расстояние между этими пунктами на местности и в километрах? Это карта или план?


Ответ _____


Задание 6. Перечислите названия материков и океанов:


Материки Евразия, Северная Америка, Южная Америка, Африка,
Австралия, Антарктида.

5

Председатель жюри  М.Б.Безирова

Члены жюри  Р.Б.Темирканова

 Е.А.Хасанова

 Р.Х.Шереужев

Школьный этап Всероссийской олимпиады школьников

ОУ МКОУ СОШ №1 с.п. Псыгансу

Предмет география

Дата проведения 07.10.2021

Класс 7

КОД участника 703

Ф.И.О. Курова Эвелина Игоревна

1. Установите соответствие:

- | | |
|---------------|------------------------|
| 1) 0° | а) северный полюс |
| 2) 23,5° с.ш. | б) экватор |
| 3) 66,5° ю.ш. | в) южный полюс |
| 4) 90° ю.ш. | г) южный полярный круг |
| 5) 90° с.ш. | д) северный тропик |

Ответ 1-б, 2-г, 3-д, 4-в, 5-а

2. Установите соответствие:

- | | |
|--------------|------------|
| 1) Монблан | а) Кавказ |
| 2) Эльбрус | б) Анды |
| 3) Эверест | в) Альпы |
| 4) Аконкагуа | г) Алтай |
| 5) Белуха | д) Гималаи |

Ответ 1-в, 2-а, 3-г, 4-д, 5-б

3. Установите соответствие:

- | | |
|--|---------------|
| 1) Он создал первый глобус | а) Ф.Магеллан |
| 2) Открыл Австралию | б) Х.Колумб |
| 3) Первым определил длину круга земного шара | в) Эратосфен |
| 4) Открыл Америку | г) Д.Кук |
| 5) Совершил кругосветное плавание | д) М.Бехайм |

Ответ 1-г, 2-д, 3-в, 4-б, 5-а

4. Установите соответствие:

Особенность климата

- | | |
|-------------------------------|---------------------|
| 1) Самый жаркий | а) Южная Америка |
| 2) Самый сухой | б) Африка |
| 3) Самый влажный | в) Евразия |
| 4) Самый высокий | г) Австралия |
| 5) Самый холодный | е) Антарктида |
| 6) Самый маленький по площади | ж) Северная Америка |

Ответ 1-б, 2-г, 3-а, 4-в, 5-д, 6-ж

5. Что из перечисленного не является материком, неверные ответы поясните.

- а) Антарктида
- б) Америка
- в) Евразия
- г) Австралия
- д) Арктика

Ответ б, г. Америка - часть света. Арктика - океан

6. Дополните: «Равнины, расположенные на высоте от 200 до 500 метров над уровнем моря, называются

Ответ _____

7. Из оболочек атмосферы наибольшее влияние на природу Земли оказывает:

- а) стратосфера в) термосфера
б) тропосфера г) мезосфера

Ответ б

8. Пассаты в южном полушарии дуют:

- а) от экватора к полюсам
б) от полюсов к умеренным широтам
в) от тропических широт к экватору
г) между тропическими широтами и умеренными

9. «Мокрое место» Земли – Черрапунджи – получает атмосферные осадки с океана:

- а) Тихого в) Северно-Ледовитого
б) Атлантического г) Индийского

10. Климатический пояс, в котором в течение года происходит смена умеренных и арктических воздушных масс, называется:

- а) умеренным в) субтропическим
б) субэкваториальным г) субарктическим

11. С глубиной температура воды в Мировом океане изменяется следующим образом:

- а) Сначала не изменяется, а затем повышается;
б) Сначала понижается, затем не изменяется;
в) Сначала повышается, затем понижается

12. Какие утверждения верны, если нет, то запишите правильный ответ

- 1) Самый большой остров – Гренландия
2) Самая глубокая впадина – Марианская
3) Крупнейший полуостров на Земле – Лабрадор
4) Высочайшая точка мира – Эльбрус
5) Самое жаркое место на Земле – пустыня Намиб

Ответ верны - 1, 2, 3 - Иравийский полуостров, 4 - Джомолунга, 5 - Сахара.

13. С действием внутренних сил Земли связано возникновение:

- а) торнадо и смерчей в) цунами и землетрясений
б) смерчей и цунами г) землетрясений и ураганов

14. Туман – это скопление в воздухе:

- а) водяного пара
б) капелек воды
в) кристалликов льда

15. Муссоны приносят влагу





- а) летом в) весной
б) зимой г) круглый год

16. Какие страны являются странами Африки:

- а) Намибия в) Ангола
б) Индия г) Аргентина

Председатель жюри  Безирова М.Б.

Члены жюри

-  Шереужев Р.Х.
-  Хасанова Е.А.
-  Темирканова Р.Б.
-  Хасанова А.А.

Школьный этап Всероссийской олимпиады школьников

ОУ МКОУ СОШ №1 с.п. Псыгансу

Предмет география

Дата проведения 07.10.2024

Класс 7

КОД участника 701

Ф.И.О. Дзуурова Дилана Даврановна

1. Установите соответствие:

- | | |
|---------------|------------------------|
| 1) 0° | а) северный полюс |
| 2) 23,5° с.ш. | б) экватор |
| 3) 66,5° ю.ш. | в) южный полюс |
| 4) 90° ю.ш. | г) южный полярный круг |
| 5) 90° с.ш. | д) северный тропик |

Ответ 1-б, 2-в, 3-д, 4-г, 5-а

2. Установите соответствие:

- | | |
|--------------|------------|
| 1) Монблан | а) Кавказ |
| 2) Эльбрус | б) Анды |
| 3) Эверест | в) Альпы |
| 4) Аконкагуа | г) Алтай |
| 5) Белуха | д) Гималаи |

Ответ 1-б, 2-в, 3-д, 4-г, 5-д

3. Установите соответствие:

- | | |
|--|---------------|
| 1) Он создал первый глобус | а) Ф.Магеллан |
| 2) Открыл Австралию | б) Х.Колумб |
| 3) Первым определил длину круга земного шара | в) Эратосфен |
| 4) Открыл Америку | г) Д.Кук |
| 5) Совершил кругосветное плавание | д) М.Бехайм |

Ответ 1-г, 2-б, 3-в, 4-а, 5-д

4. Установите соответствие:

Особенность климата

- | | |
|-------------------------------|---------------------|
| 1) Самый жаркий | а) Южная Америка |
| 2) Самый сухой | б) Африка |
| 3) Самый влажный | в) Евразия |
| 4) Самый высокий | г) Австралия |
| 5) Самый холодный | е) Антарктида |
| 6) Самый маленький по площади | ж) Северная Америка |

Ответ 1-б, 2-г, 3-в, 4-г, 5-е, 6-ж

5. Что из перечисленного не является материком, неверные ответы поясните.

- а) Антарктида
- б) Америка
- в) Евразия
- г) Австралия
- д) Арктика

Ответ б, в

6. Дополните: «Равнины, расположенные на высоте от 200 до 500 метров над уровнем моря, называются

Ответ возвышенности

7. Из оболочек атмосферы наибольшее влияние на природу Земли оказывает:

- а) стратосфера в) термосфера
б) тропосфера г) мезосфера

0

Ответ в

8. Пассаты в южном полушарии дуют:

- а) от экватора к полюсам
б) от полюсов к умеренным широтам
в) от тропических широт к экватору
г) между тропическими широтами и умеренными

1

9. «Мокрое место» Земли – Черрапунджи – получает атмосферные осадки с океана:

- а) Тихого в) Северно-Ледовитого
б) Атлантического г) Индийского

0

10. Климатический пояс, в котором в течение года происходит смена умеренных и арктических воздушных масс, называется:

- а) умеренным в) субтропическим
б) субэкваториальным г) субарктическим

1

11. С глубиной температура воды в Мировом океане изменяется следующим образом:

- а) Сначала не изменяется, а затем повышается;
б) Сначала понижается, затем не изменяется;
в) Сначала повышается, затем понижается

1

12. Какие утверждения верны, если нет, то запишите правильный ответ

- 1) Самый большой остров – Гренландия
2) Самая глубокая впадина – Марианская
3) Крупнейший полуостров на Земле – Лабрадор
4) Высочайшая точка мира - Эльбрус
5) Самое жаркое место на Земле – пустыня Намиб

1

Ответ Верны - 1, 2, 3 - ошибочный, 4 - ошибочный, 5 - Sahara

13. С действием внутренних сил Земли связано возникновение:

- а) торнадо и смерчей в) цунами и землетрясений
б) смерчей и цунами г) землетрясений и ураганов

1

14. Туман – это скопление в воздухе:

- а) водяного пара
б) капелек воды
в) кристалликов льда

1

15. Муссоны приносят влагу

- а) летом в) весной
б) зимой г) круглый год

0





16. Какие страны являются странами Африки:

- а) Намибия в) Ангола
б) Индия г) Аргентина

0

Председатель жюри  Безирова М.Б.

Члены жюри

-  Шереужев Р.Х.
-  Хасанова Е.А.
-  Темирканова Р.Б.
-  Хасанова А.А.

Школьный этап Всероссийской олимпиады школьников

ОУ МКОУ СОШ №1 с.п. Псыгансу

Предмет География

Дата проведения 7.10.2014г.

Класс 8

КОД участника 8001

Тестовый уровень

+ 1. Какой будет масштаб плана местности, если линия, длина которой на местности составляет 24 км, представлена на плане местности отрезком длиной 3 см:
1) 1:8000; 2) 1:850 000; 3) 1:800000; 4) 1:240000? 15

+ 2. В каком океане расположены Канарские острова.
1. Атлантическом. 2) Индийском. 3. Тихом. 4. Северном Ледовитом. 15

+ 3. Линии, соединяющие точки с одинаковыми высотами, называют:
1) изотермы; 2) изобары; 3) горизонтали; 4) градусная сетка. 15

+ 4. На каком материке расположена пустыня Намиб.
1. Южная Америка. 2. Северная Америка. 3. Африка. 4. Евразия. 15

+ 5. Благодаря чему образуются барханы и дюны:
1. Ветру. 2. Древнему леднику. 3. Текучей воде. 4. Прибойной волне. 15

+ 6. Возвышенности над уровнем моря находятся на высоте:
1. от 0 до 200м. 2. от 200 до 500м. 3. от 500м до 1000м. 4. выше 1000м. 15

+ 7. Выберите море, границами которого являются течения: на западе и севере – Северо-Атлантическое, на востоке – Канарское, на юге – Северное Пассатное.
1. Карибское. 2. Ионическое. 3. Саргассово. 4. Северное. 15

+ 8. Землетрясения – стихийные бедствия, от которых часто страдают люди. Своевременное оповещение населения специальными службами может предотвратить катастрофические последствия землетрясений. В какой из перечисленных стран необходимы такие специальные службы?
1. Турция. 2. Белоруссия. 3. Нидерланды. 4. Дания 15

+ 9. В какой природной зоне грибы могут расти выше деревьев:
1. Влажные экваториальные леса. 2. Саванны. 3. Арктические пустыни. 4. Тундра.

- 10. Выберите верную пару: 1. Гималаи-Эльбрус. 2. Альпы-Монблан. 3. Уральские – Ямантау
4. Аппалачи – Аконкагуа. 0

Аналитический уровень

- №1. 21 мая 1960 г. в городе Консепсьене, находящимся на территории Чили, произошло землетрясение, за которым последовала серия повторных подземных толчков. Рухнули 400 зданий, под обломками которых погибли тысячи человек. Почему в этом районе часто происходят землетрясения? Приведите не менее двух суждений. 0


Ответ _____


- №2. Можно ли самую высокую гору на Земле «утопить» в бездне самой глубокой океанической пучины? Ответ обоснуйте. 0

Ответ _____

Председатель жюри  /М.Б.Безирова/

Члены жюри:  / Хасанова А.А./

 /Хасанова Е.А./

 /Шереужев Р.Х./

 /Темирканова Р.Б./

Школьный этап Всероссийской олимпиады школьников

ОУ МКОУ СОШ №1 с.п. Псыгансу

Предмет география

Дата проведения 07.10.2024г

Класс 8

КОД участника 8003

Тестовый уровень

- 1. Какой будет масштаб плана местности, если линия, длина которой на местности составляет 24 км, представлена на плане местности отрезком длиной 3 см:
1) 1:8000; 2) 1:850 000; 3) 1:800000; 4) 1:240000? 0

+ 2. В каком океане расположены Канарские острова.
1) Атлантическом. 2) Индийском. 3) Тихом. 4) Северном Ледовитом. 1,5

+ 3. Линии, соединяющие точки с одинаковыми высотами, называют:
1) изотермы; 2) изобары; 3) горизонтали; 4) градусная сетка. 1,5

+ 4. На каком материке расположена пустыня Намиб.
1. Южная Америка. 2. Северная Америка. 3. Африка. 4. Евразия. 1,5

+ 5. Благодаря чему образуются барханы и дюны:
1. Ветру. 2. Древнему леднику. 3. Текучей воде. 4. Прибойной волне. 1,5

+ 6. Возвышенности над уровнем моря находятся на высоте:
1. от 0 до 200м. 2. от 200 до 500м. 3. от 500м до 1000м. 4. выше 1000м. 1,5

+ 7. Выберите море, границами которого являются течения: на западе и севере – Северо-Атлантическое, на востоке – Канарское, на юге – Северное Пассатное.
1. Карибское. 2. Ионическое. 3. Саргассово. 4. Северное. 1,5

+ 8. Землетрясения – стихийные бедствия, от которых часто страдают люди. Своевременное оповещение населения специальными службами может предотвратить катастрофические последствия землетрясений. В какой из перечисленных стран необходимы такие специальные службы?
1. Турция. 2. Белоруссия. 3. Нидерланды. 4. Дания 1,5

+ 9. В какой природной зоне грибы могут расти выше деревьев:
1. Влажные экваториальные леса. 2. Саванны. 3. Арктические пустыни. 4. Тундра. 1,5

- 10. Выберите верную пару: 1. Гималаи-Эльбрус. 2. Альпы-Монблан. 3. Уральские – Ямантау 0
4. Аппалачи – Аконкагуа.

Аналитический уровень

- №1. 21 мая 1960 г. в городе Консепсьене, находящимся на территории Чили, произошло землетрясение, за которым последовала серия повторных подземных толчков. Рухнули 400 зданий, под обломками которых погибли тысячи человек. Почему в этом районе часто происходят землетрясения? Приведите не менее двух суждений. 0

Ответ _____

- №2. Можно ли самую высокую гору на Земле «утопить» в бездне самой глубокой океанической пучины? Ответ обоснуйте. 0

Ответ _____

8,5

Председатель жюри MBZ /М.Б.Безирова/

Члены жюри: A / Хасанова А.А./

EM /Хасанова Е.А./

PH /Шереужев Р.Х./

TR /Темирканова Р.Б./

Школьный этап Всероссийской олимпиады школьников

ОУ МКОУ СОШ №1 с.п. Псыгансу

Предмет география

Дата проведения 07.10.2024г

Класс 9

КОД участника 9001

Тестовый уровень

— 1. Наибольшую абсолютную высоту имеет крайняя ... точка России: 0
(а) северная; б) южная; в) западная; г) восточная.

+ 2. Выберите реки Евразии 15
а) Нева, Обь, Ока, Ниагара;
б) Кама, Енисей, Амур, Сырдарья;
в) Замбези, Дон, Днепр, Тобол;
г) Амур, Волга, Енисей, Конго.

+ 3. Устойчивая малооблачная погода характерна для территорий, 15
находящихся под влиянием...
а) холодных атмосферных фронтов;
б) теплых атмосферных фронтов;
в) циклонов;
г) антициклонов.

+ 4. Какая эра в геологической истории Земли самая древняя: 15
(а) архейская; б) протерозойская; в) палеозойская; г) мезозойская

— 5. Резко континентальный тип климата характерен для
а) Забайкалья;
б) полуострова Ямал;
в) островов Новая Земля;
г) Восточно – Европейской равнины.

Аналитический уровень

— №1. Во Владивостоке есть такая поговорка: «Широта-то у нас Крымская, но долгота- Колымская». Прокомментируйте ее. 0
Ответ _____

— №2. Почему крупные лесные пожары в России происходят в ее азиатской части, где наносится наибольший ущерб хозяйству? 0

№3. По протяженности государственных границ Россия не имеет равных в мире – более 60 тысяч километров, при этом общие границы наша страна имеет с 18-ю государствами. По описанию узнайте ряд стран, граничащих с Россией.

1. Государство, выходящее к берегам самого большого по площади озера. Часть территории является эксклавом, расположенным в соседней стране. Один из старейших центров нефтедобычи в мире. Азербайджан 15
2. Страна, большую часть которой занимают болота.
Здесь находится единственный сохранившийся древний лесной массив в

- Зарубежной Европе – Беловежская пуца. Эстония 0
3. Свой национальный флаг жители этой страны называют «солнечный круг». Страна имеет претензии к России по поводу «северных территорий». Япония 15
4. Государство, занимающее 1/5 площади Евразии. Жители называют свою страну «Срединное государство». Одна из самых обеспеченных природными ресурсами стран мира. Является мировым лидером в ряде отраслей экономики. Китай 15
5. Одно из самых малонаселенных государств мира (средняя плотность – 1 чел./км²), расположенное в «сердце» Евразии. Население исповедует буддизм-ламаизм. Значительную часть территории занимают пустыни и полупустыни. Монголия 15
6. Название этой приморской страны означает «Северный путь». Береговая линия сильно изрезана. Основная часть населения проживает на юге, исповедует лютеранство Норвегия 15
7. Государство – родина Папы Римского Иоанна Павла II (предстоятель Римско-католической церкви в 1978-2005 гг.) С захвата страны немецкими фашистами в 1939 г. началась Вторая Мировая война. Один из крупнейших в Европе производителей каменного угля Польша 15
8. Это самая закрытая страна мира. Менее одного процента населения страны имеют выход в интернет. Только в 2013 году власти страны разрешили иностранным туристам пользоваться сотовыми телефонами и мобильным интернетом КНДР 15
9. Страна, около 1/3 территории которой находится за полярным кругом. До 1919 г. входила в состав Российской Империи. Этим объясняется одинаковая ширина железнодорожной колеи в наших странах. В состав страны входит около 17 000 мелких островов и шхер, в т.ч. Аландские острова Финляндия 15
10. По площади территории занимает девятое место среди стран мира. Государство располагается в Европе и Азии и не имеет выхода в Мировой океан. Большая часть населения исповедует ислам. Потребление чая жителями этой страны одно из самых высоких в мире - 1,2 килограмма в год на человека Казахстан 15
- 125

Председатель жюри МББ /М.Б.Безирова/

Члены жюри: А /Хасанова А.А./

Е /Хасанова Е.А./

Ш /Шереужев Р.Х./

Т /Темирканова Р.Б./

Школьный этап Всероссийской олимпиады школьников

ОУ МКОУ СОШ №1 с.п. Псыгансу

Предмет География

Дата проведения 07.10.24.

Класс 9

КОД участника 9002

Тестовый уровень

1. Наибольшую абсолютную высоту имеет крайняя ... точка России: 0
а) северная; б) южная; в) западная; г) восточная.

+ 2. Выберите реки Евразии 15
а) Нева, Обь, Ока, Ниагара;
 б) Кама, Енисей, Амур, Сырдарья;
в) Замбези, Дон, Днепр, Тобол;
г) Амур, Волга, Енисей, Конго.

+ 3. Устойчивая малооблачная погода характерна для территорий, находящихся под влиянием... 15
а) холодных атмосферных фронтов;
б) теплых атмосферных фронтов;
в) циклонов;
 г) антициклонов.

+ 4. Какая эра в геологической истории Земли самая древняя: 15
 а) архейская; б) протерозойская; в) палеозойская; г) мезозойская

5. Резко континентальный тип климата характерен для 05
а) Забайкалья;
 б) полуострова Ямал;
в) островов Новая Земля;
г) Восточно – Европейской равнины.

Аналитический уровень

№1. Во Владивостоке есть такая поговорка: «Широта-то у нас Крымская, но долгота- Колымская». Прокомментируйте ее. 0
Ответ _____

№2. Почему крупные лесные пожары в России происходят в ее азиатской части, где наносится наибольший ущерб хозяйству? 0

№3. По протяженности государственных границ Россия не имеет равных в мире – более 60 тысяч километров, при этом общие границы наша страна имеет с 18-ю государствами. По описанию узнайте ряд стран, граничащих с Россией.

1. Государство, выходящее к берегам самого большого по площади озера. Часть территории является эксклавом, расположенным в соседней стране. Один из старейших центров нефтедобычи в мире. Азербайджан 15
2. Страна, большую часть которой занимают болота. Здесь находится единственный сохранившийся древний лесной массив в

- Зарубежной Европе – Беловежская пуца. Эстония 0
3. Свой национальный флаг жители этой страны называют «солнечный круг». Страна имеет претензии к России по поводу «северных территорий». Япония 15
4. Государство, занимающее 1/5 площади Евразии. Жители называют свою страну «Срединное государство». Одна из самых обеспеченных природными ресурсами стран мира. Является мировым лидером в ряде отраслей экономики. Китай 15
5. Одно из самых малонаселенных государств мира (средняя плотность – 1 чел./км²), расположенное в «сердце» Евразии. Население исповедует буддизм-ламаизм. Значительную часть территории занимают пустыни и полупустыни. Монголия 15
6. Название этой приморской страны означает «Северный путь». Береговая линия сильно изрезана. Основная часть населения проживает на юге, исповедует лютеранство. Норвегия 15
7. Государство – родина Папы Римского Иоанна Павла II (предстоятель Римско-католической церкви в 1978-2005 гг.) С захвата страны немецкими фашистами в 1939 г. началась Вторая Мировая война. Один из крупнейших в Европе производителей каменного угля. Беларусь 0
8. Это самая закрытая страна мира. Менее одного процента населения страны имеют выход в интернет. Только в 2013 году власти страны разрешили иностранным туристам пользоваться сотовыми телефонами и мобильным интернетом. ЖКДР 15
9. Страна, около 1/3 территории которой находится за полярным кругом. До 1919 г. входила в состав Российской Империи. Этим объясняется одинаковая ширина железнодорожной колеи в наших странах. В состав страны входит около 17 000 мелких островов и шхер, в т.ч. Аландские острова. Финляндия 15
10. По площади территории занимает девятое место среди стран мира! Государство располагается в Европе и Азии и не имеет выхода в Мировой океан. Большая часть населения исповедует ислам. Потребление чая жителями этой страны одно из самых высоких в мире - 1,2 килограмма в год на человека. Турция 0

Председатель жюри МББ /М.Б.Безирова/

Члены жюри: А /Хасанова А.А./

Е /Хасанова Е.А./

Ш /Шереужев Р.Х./

Т /Темирканова Р.Б./

105

Олимпиадные задания школьного тура для учащихся 10-11 классов.

По географии

Предмет география

Дата проведения 07.10.24

Класс 10

Код участника 1001

ТЕСТОВЫЙ УРОВЕНЬ

1. Назовите основную причину существования поверхностных течений в Мировом океане: а) рельеф дна океанов; б) характер очертания материков;

10 в) различия в солености воды в океанах; г) постоянные ветры Земли.

2. Наибольшая часть запасов пресных вод на Земле содержится в...

10 а) ледниках; б) реках; в) озерах; г) болотах.

3. Какое соответствие «природная зона – тип почвы» является верным?

10 а) широколиственные леса – краснозёмы;
б) тайга – подзолистые;
в) пустыни – каштановые;
г) степи – желтозёмы.

4. Что общего между городами Волгоград, Владимир, Липецк, Чебоксары, Рубцовск?

10 а) центры тракторного машиностроения, б) центры черной металлургии,
в) лесопромышленные центры, г) центры производства минеральных удобрений.

5. Выберите вид транспорта, лидирующий по грузообороту в России: а) железнодорожный; б) автомобильный; в) трубопроводный; г) речной.

10 6. На каком острове есть действующие вулканы:

10 а) Гренландия; б) Мадагаскар; в) Хоккайдо; г) Куба.

7. Выберите правильно вариант ответа, в котором представлены две страны, одновременно входящие в число семи самых крупных по территории и десяти самых крупных по численности населения:

10 а) Китай и Индонезия; б) Австралия и Бангладеш;
в) Бразилия и Нигерия; г) Китай и Бразилия.

8. Выберите вариант, в котором все страны имеют низкую плотность населения:

10 а) Монголия, Австралия, Мавритания; б) Саудовская Аравия, Уругвай, Великобритания;
в) Индия, Вьетнам, Ирак; г) Казахстан, Япония, Китай.

9. Найдите единственную страну, в которой минимальны предпосылки для межрелигиозных или межэтнических конфликтов: а) Великобритания; б) Индия; в) Япония; г) Турция;

10. Установите соответствие между крупнейшими районами эмиграции и иммиграции мира: а) Страны иммиграции; б) Страны эмиграции;




1) Германия, 2) Узбекистан, 3) ОАЭ, 4) Мексика

20 Ответ а-1,3; б-2,4

Аналитический уровень

№1. Определите по контуру название соответствующего субъекта Российской Федерации, по рисунку, кто или что изображено. Результаты оформите так:

Объект	№ Рисунка	Пояснение
А		
Б		
В		



65 28 августа 1828г. в д. Палае родился Толстой. Здесь он жил, здесь им были написаны "Война и мир" Анна Каренина, здесь же находится его могила.

2 ЗЯГО североморск - морской база Северного флота аннву которую составляют атомной подводные лодки, противолодочные корабли, авианосцы и т.д.

Впишите во вторую колонку номера рисунков так, чтобы образовались осмысленные пары «субъект федерации – рисунок». В третью колонку запишите название субъекта, пояснение к рисунку.

№2. Заполните таблицу, определив по названию страны столицу и материк, на котором она расположена.


95

№	Название страны	Столица	Часть света
1	Мексика	Мехико	Америка
2	Молдавия	Кишинев	Европа
7	Ливия	Триполи	Африка

№3. Книга рекордов Гиннеса утверждает, что самая высокая рождаемость, по оценкам ООН, наблюдалась в Кении в конце 1980-х годов. В какой стране самая низкая (нулевая) рождаемость.


15

Ватикан

Председатель жюри  М.Б.Безирова

Члены жюри  Р.Б.Темирканова

 Е.А.Хасанова

 Р.Х.Шереужев

Школьный этап Всероссийской олимпиады школьников

ОУ МКОУ СОШ №1 с.п. Псыгансу
Дата проведения 07.10.24

Предмет география
Класс 10

КОД участника 1002

ТЕСТОВЫЙ УРОВЕНЬ

1. Назовите основную причину существования поверхностных течений в Мировом океане: а) рельеф дна океанов; б) характер очертания материков;

15 в) различия в солености воды в океанах; г) постоянные ветры Земли.

2. Наибольшая часть запасов пресных вод на Земле содержится в...

15 а) ледниках; б) реках; в) озерах; г) болотах.

3. Какое соответствие «природная зона – тип почвы» является верным?

а) широколиственные леса – краснозёмы;

15 б) тайга – подзолистые;

в) пустыни – каштановые;

г) степи – желтозёмы.

4. Что общего между городами Волгоград, Владимир, Липецк, Чебоксары, Рубцовск?

15 а) центры тракторного машиностроения; б) центры черной металлургии;

в) лесопромышленные центры; г) центры производства минеральных удобрений.

5. Выберите вид транспорта, лидирующий по грузообороту в России: а) железнодорожный;

15 б) автомобильный; в) трубопроводный; г) речной.

6. На каком острове есть действующие вулканы:

а) Гренландия; б) Мадагаскар; в) Хоккайдо; г) Куба.

7. Выберите правильно вариант ответа, в котором представлены две страны, одновременно входящие в число семи самых крупных по территории и десяти самых крупных по численности населения:

15 а) Китай и Индонезия; б) Австралия и Бангладеш;

в) Бразилия и Нигерия; г) Китай и Бразилия.

8. Выберите вариант, в котором все страны имеют низкую плотность населения:

15 а) Монголия, Австралия, Мавритания; б) Саудовская Аравия, Уругвай, Великобритания;

в) Индия, Вьетнам, Ирак; г) Казахстан, Япония, Китай.

9. Найдите единственную страну, в которой минимальны предпосылки для межрелигиозных или межэтнических конфликтов: а) Великобритания; б) Индия; в) Япония; г) Турция;

10. Установите соответствие между крупнейшими районами эмиграции и иммиграции мира: а) Страны иммиграции; б) Страны эмиграции;


1) Германия, 2) Узбекистан, 3) ОАЭ, 4) Мексика

25 Ответ А-1,3; Б-2,4;


Аналитический уровень

№1. Определите по контуру название соответствующего субъекта Российской Федерации, по рисунку, кто или что изображено. Результаты оформите так:

Объект	№ Рисунка	Пояснение
А		
Б		
В		



А



Б




В



1



2



3

28 августа 1882. В Ясной Поляне
родился Л.М. Толстой: здесь он писал
здесь он босни написал "Война и мир"
"Анна Каренина" там же находится его могила.

35

Впишите во вторую колонку номера рисунков так, чтобы образовались осмысленные пары «субъект федерации – рисунок». В третью колонку запишите название субъекта, пояснение к рисунку.

№2. Заполните таблицу, определив по названию страны столицу и материк, на котором она расположена.

35





№	Название страны	Столица	Часть света
1	Мексика	Мехико	Северная Америка
2	Молдавия	Кишинев	Европа
7	Ливия	Триполи	Африка

№3. Книга рекордов Гиннеса утверждает, что самая высокая рождаемость, по оценкам ООН, наблюдалась в Кении в конце 1980-х годов. В какой стране самая низкая (нулевая) рождаемость.

15

Ватикан

Председатель жюри  Безирова М.Б.

Члены жюри  Шереужев Р.Х.
 Хасанова Е.А.
 Темирканова Р.Б.
 Хасанова А.А.